


Zemljevidi in načrti



Fotografija zemeljskega površja, ki je posneta iz letala, se imenuje _____.

Strokovnjak, ki na podlagi teh fotografij oblikuje *zemljevide* in *načrte kraja*, se imenuje _____. Pri opazovanju letalskih fotografij smo pozorni na:

- _____ (trava, njiva, voda, ceste...)
- _____ (po njih se prepoznajo nekatere zgradbe, športna igrišča, ceste...)
- _____ (drevesa so npr.: večja od grmov, tovarne so velike, hiše majhne...)
- _____ (po njih določimo višino zgradb in dreves)

Na zemljevidih in načrtih *ni toliko podrobnosti* kot na letalskih fotografijah. Kaj bo na zemljevidu in kaj na načrtu nekega kraja, odločijo kartografi.

Zemljevid prikazuje velike dele zemeljske površine. Na običajnem zemljevidu so označeni _____, _____, _____, _____... Na zemljevidu so najpomembnejše _____.

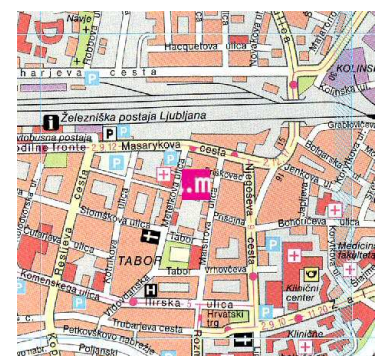


Načrt ali karta kraja prikazuje *ceste in ulice* tega kraja, ki so opremljene z _____, *stavbe*, ki so narisane v različnih _____ in površje z vodami.


Zemljevidi držav in načrti krajev morajo imeti:

1. *naslov*
2. *merilo*
3. *legendo*

(Kaj je to in zakaj mora biti na zemljevidih in načrtih?)



Zemljevidi in načrti



Fotografija zemeljskega površja, ki je posneta iz letala, se imenuje

letalska fotografija.

Strokovnjak, ki na podlagi teh fotografij oblikuje *zemljevide* in *načrte kraja*, se imenuje kartograf. Pri opazovanju letalskih fotografij smo

pozorni na:

- barve (trava, njiva, voda, ceste...)
- oblike (po njih se prepoznajo nekatere zgradbe, športna igrišča, ceste...)
- velikosti (drevesa so npr.: večja od grmov, tovarne so velike, hiše majhne...)
- sence (po njih določimo višino zgradb in dreves)

Na zemljevidih in načrtih *ni toliko podrobnosti* kot na letalskih fotografijah. Kaj bo na zemljevidu in kaj na načrtu nekega kraja, odločijo kartografi.

Zemljevid prikazuje velike dele zemeljske površine. Na običajnem zemljevidu so označeni oblika površja, kraji, ceste, meja Na zemljevidu so najpomembnejše barve.



Načrt ali karta kraja prikazuje *ceste in ulice* tega kraja, ki so opremljene z imeni, stavbe, ki so narisane v različnih barvah in površje z vodami.

Zemljevidi držav in načrti krajev morajo imeti:

1. *naslov*
2. *merilo*
3. *legendo*

(Kaj je to in zakaj mora biti na zemljevidih in načrtih?)

